

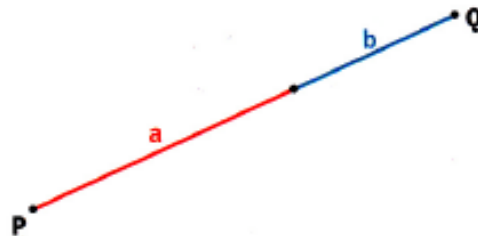
Goldener Schnitt

Eine Strecke \overline{PQ} wird durch die Teilstrecke a und b (mit $a > b$) im Verhältnis des Goldenen Schnitts geteilt,

$$\text{wenn } \frac{a+b}{a} = \frac{a}{b}.$$

Für den längeren Abschnitt gilt:

$$a = \frac{\sqrt{5}-1}{2} * (a+b) \approx 0,618 * (a+b)$$



Schrägbild und Netz von Körpern

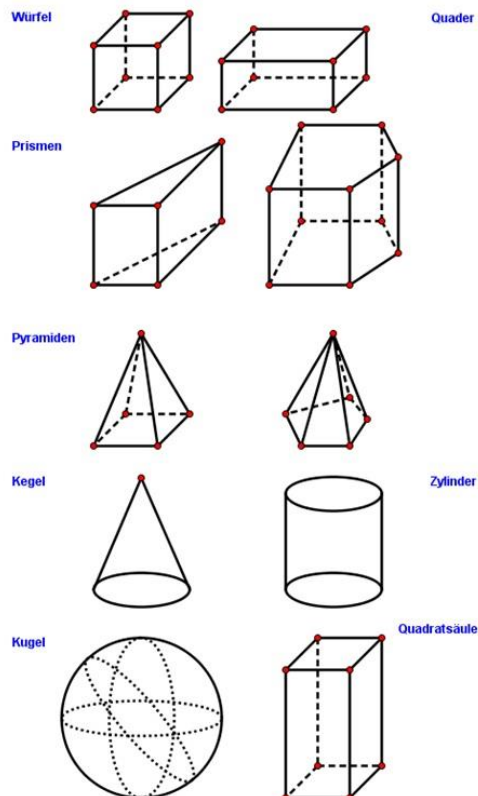
Anfertigung:

- Vorder- und Rückseite des Körpers in Originalgröße
- nach hinten verlaufende Kanten um Verzerrungswinkel α (z.B. 45°) geneigt und um Verzerrungsfaktor k (z.B. $\frac{1}{2}$) gekürzt.
- verdeckte Kanten gestrichelt

Merke:

- Im Original parallele Kanten sind auch im Schrägbild parallel.

Beispiele:

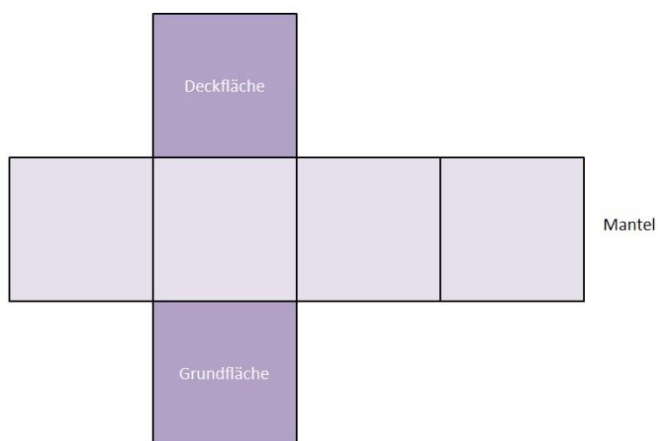


Schrittweises Konstruieren der einzelnen Schrägbilder liefert dir der beigefügte Internetlink, den du am Ast „Schrägbilder von Netzen und Körpern“ findest!

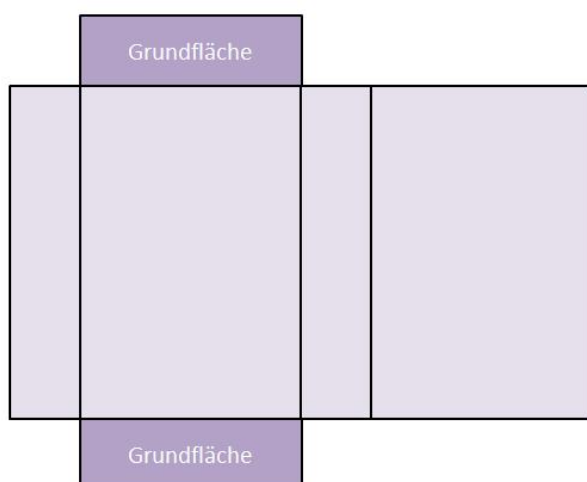
Wird die Oberfläche eines geometrischen Körpers aufgeschnitten und in der Ebene ausgebreitet, erhält man das Netz des Körpers.

Beispiele:

- Netz eines Würfels



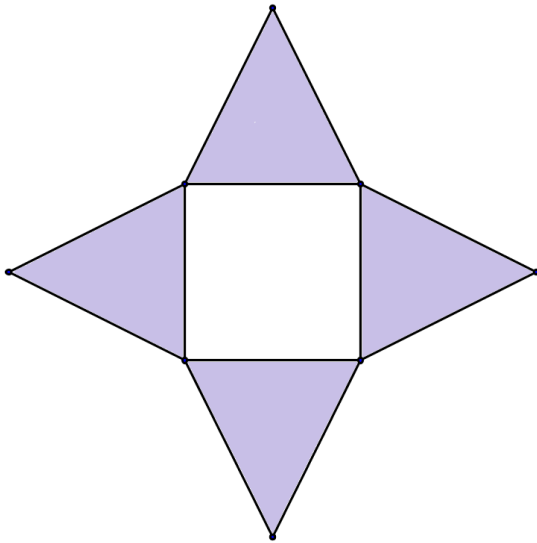
- Netz eines Quaders



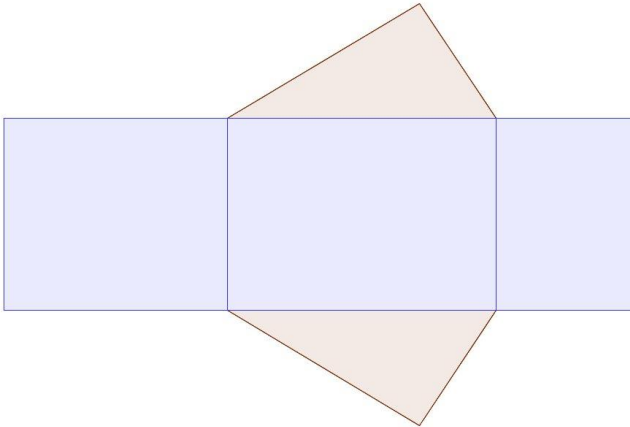
Formelsammlung

Geometrie

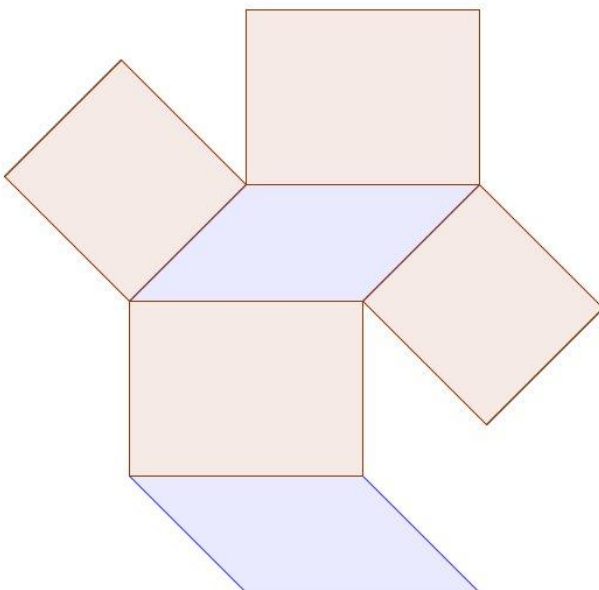
- Netz einer Pyramide



- Netz eines dreiseitigen Prismas



- Netz eines vierseitigen Prismas

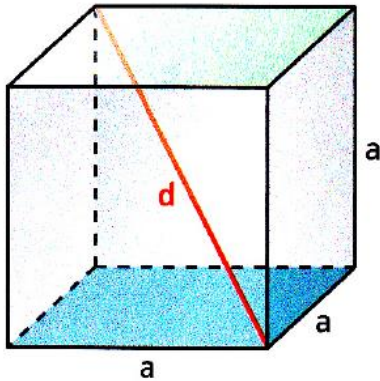


Würfel, Quader und Prisma

Volumen bei diesen Körpern $V = G \cdot h$

$G =$ **Grundfläche**; $h =$ **Höhe**; $M =$ **Mantelfläche**

Würfel



Volumen:

$$V = a^3$$

Oberflächeninhalt:

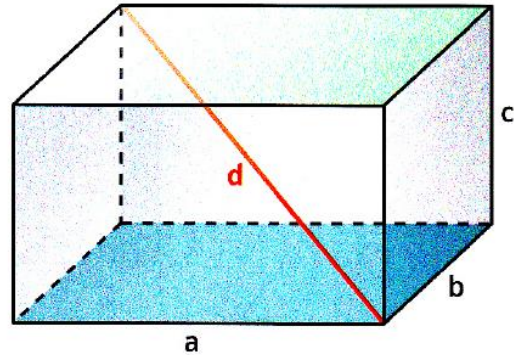
$$O = 6 a^2$$

bc

Länge der Raumdiagonale:

$$d = a\sqrt{3}$$

Quader



Volumen:

$$V = a \cdot b \cdot c$$

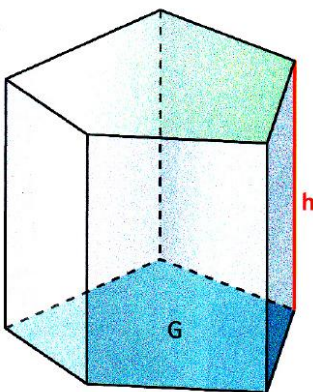
Oberflächeninhalt:

$$O = 2 (ab + ac + bc) = 2 ab + 2 ac + 2 bc$$

Länge der Raumdiagonale:

$$d = \sqrt{a^2 + b^2 + c^2}$$

Prisma



Volumen:

$$V = G \cdot h$$

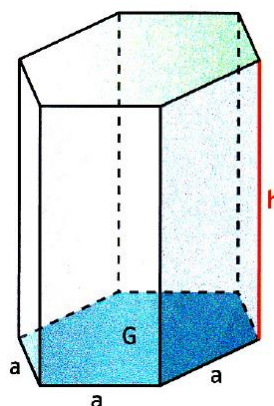
Mantelflächeninhalt:

$$M = u \cdot h$$

Oberflächeninhalt:

$$O = 2G + M$$

Regelmäßiges Sechseckprisma



Volumen:

$$V = \frac{3 a^2}{2} \sqrt{3} \cdot h$$

Mantelflächeninhalt:

$$M = 6 ah$$

Oberflächeninhalt:

$$O = 3 a^2 \sqrt{3} + 6 ah$$

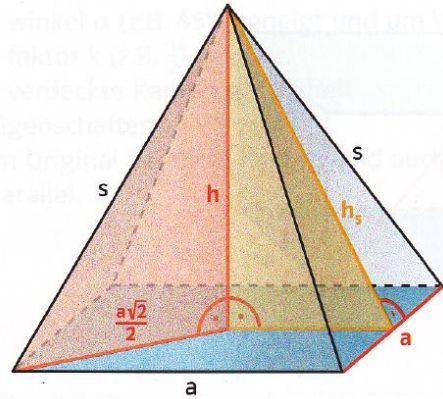
Pyramide

Volumen der Pyramide $V = \frac{1}{3} G \cdot h$

Oberfläche $O = G + M$

$G =$ Grundfläche; $h =$ Höhe; $M =$ Mantelfläche

Quadratische Pyramide



Volumen:

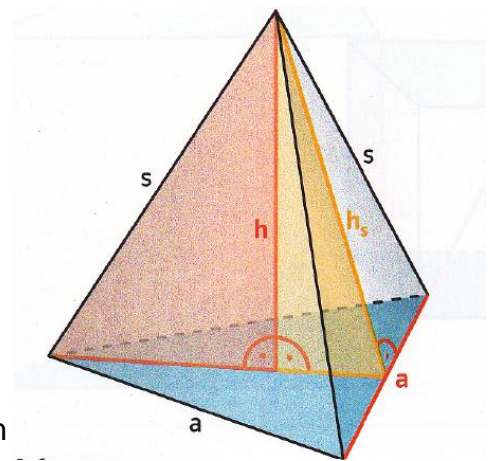
$$V = \frac{1}{3} a^2 \cdot h$$

Mantelflächeninhalt:

$$M = 2 a h_s$$

Oberflächeninhalt:

$$O = a^2 + 2 a h_s$$

Regelmäßige Dreiecks-
pyramide

Volumen:

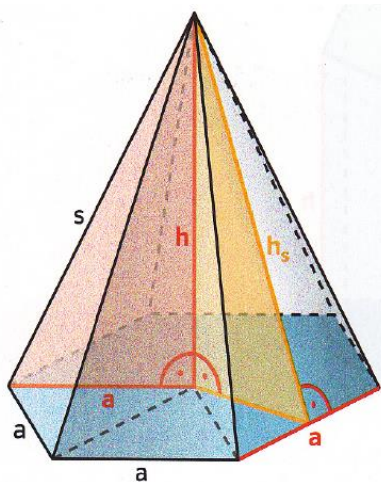
$$V = \frac{a^2 \sqrt{3}}{12} \cdot h$$

Mantelflächeninhalt:

$$M = \frac{3}{2} a h_s$$

Oberflächeninhalt:

$$O = \frac{a^2 \sqrt{3}}{4} + \frac{3}{2} a h_s$$

Regelmäßige Sechseck-
pyramide

Volumen:

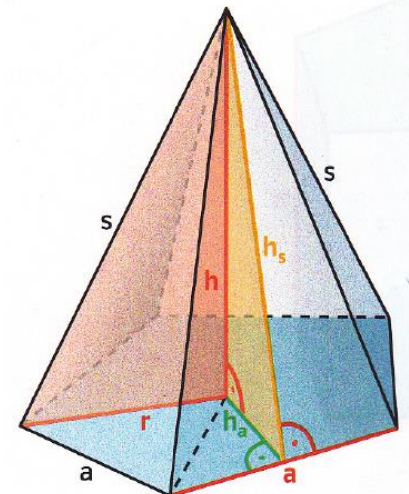
$$V = \frac{a^2 \sqrt{3}}{2} \cdot h$$

Mantelflächeninhalt:

$$M = 3 a h_s$$

Oberflächeninhalt:

$$O = 3 a^2 \sqrt{3} + 3 a h_s$$

Regelmäßige n-Ecks-
pyramide

Volumen:

$$V = \frac{1}{3} G \cdot h$$

Mantelflächeninhalt:

$$M = n \cdot \frac{a h_s}{2}$$

Oberflächeninhalt:

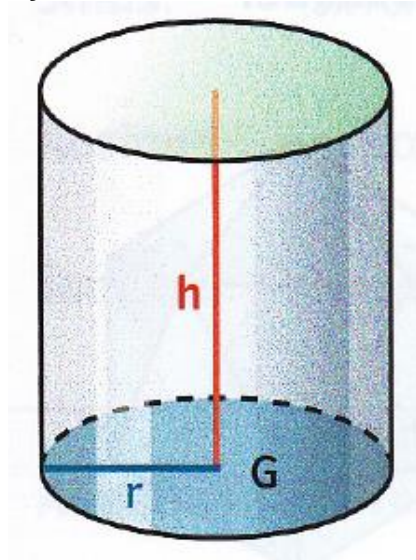
$$O = G + n \cdot \frac{a h_s}{2}$$

Zylinder Kegel und Kugel

G = Grundfläche; h = Höhe; M = Mantelfläche

Zylinder

Zylinder:



Volumen:

$$V = G \cdot h$$

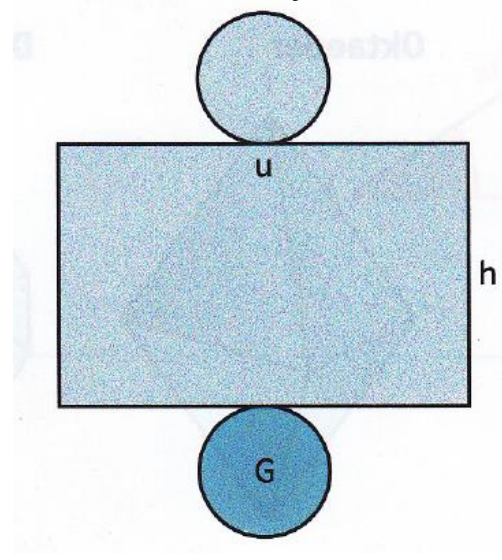
$$V = \pi r^2 \cdot h$$

Mantelflächeninhalt:

$$M = u \cdot h$$

$$M = 2 \pi r \cdot h$$

Netz eines Zylinders:



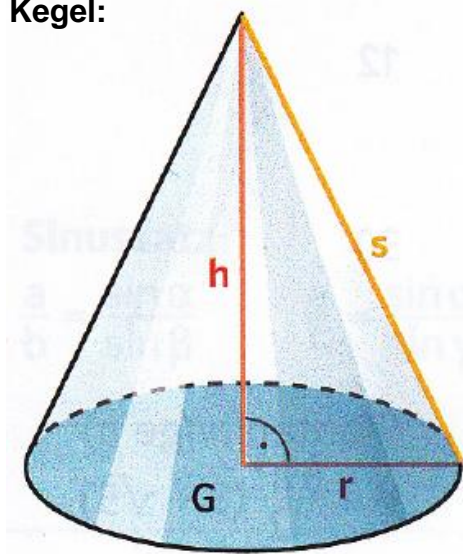
Oberflächeninhalt

$$O = 2 G + M$$

$$O = 2 \pi r^2 + 2 \pi r h$$

Kegel

Kegel:



Volumen:

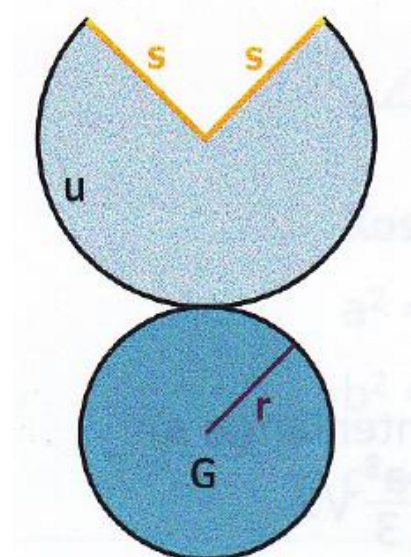
$$V = \frac{1}{3} G \cdot h$$

$$V = \frac{1}{3} \pi r^2 \cdot h$$

Mantelflächeninhalt:

$$M = \pi \cdot r \cdot s$$

Netz des Kegels:



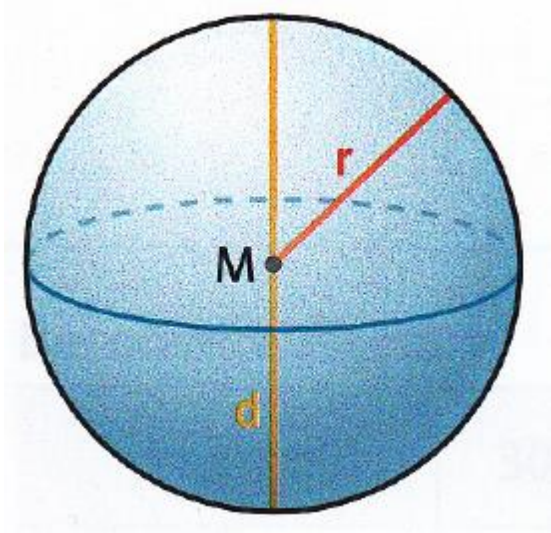
Oberflächeninhalt

$$O = G + M$$

$$O = \pi r^2 + \pi r s$$

Kugel

Kugel:

**Volumen:**

$$V = \frac{4}{3} \pi r^3$$

$$V = \frac{\pi d^3}{6}$$

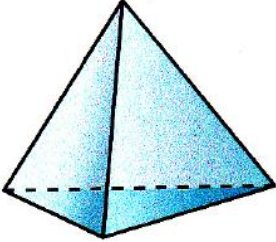
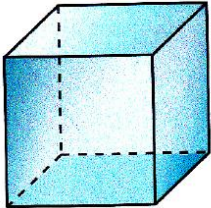
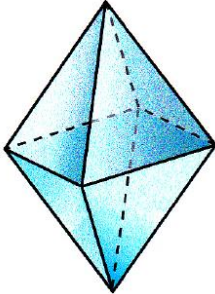
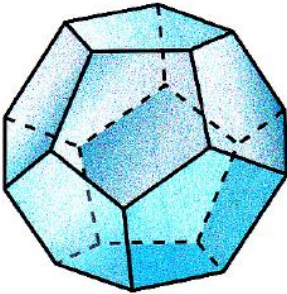
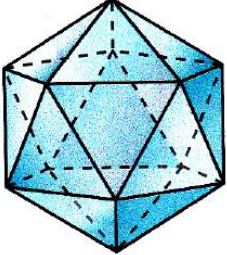
Oberflächeninhalt

$$O = 4 \pi r^2$$

$$O = \pi d^2$$

Regelmäßige Körper (Platonische Körper)

Bei regelmäßigen Körpern besteht die Oberfläche nur aus kongruenten Vielecken.
Es gibt genau fünf regelmäßige Körper.

Tetraeder	Würfel (Hexaeder)	Oktaeder	Dodekaeder	Ikosaeder
				
Seitenflächen 4 gleichseitige Dreiecke	6 Quadrate	8 gleichseitige Dreiecke	12 regelmäßige Fünfecke	20 gleichseitige Dreiecke
Eckenzahl 4	8	6	20	12
Kantenzahl 6	12	12	30	30
Volumen (Kantenlänge a) $V = \frac{a^3}{12}\sqrt{2}$	(Kantenlänge a) $V = a^3$	(Kantenlänge a) $V = \frac{a^3}{3}\sqrt{2}$	(Kantenlänge a) $V = \frac{a^3}{4}(15 + \sqrt{2})$	(Kantenlänge a) $V = \frac{5a^3}{12}(3 + \sqrt{5})$
Oberflächeninhalt $O = a^2\sqrt{3}$	$O = 6a^2$	$O = 2a^2\sqrt{3}$	$O = 3a^2\sqrt{5(5 + 2\sqrt{5})}$	$O = 5a^2\sqrt{3}$

Es gilt: **Anzahl der Seitenflächen + Anzahl der Ecken = Kantenzahl + 2**